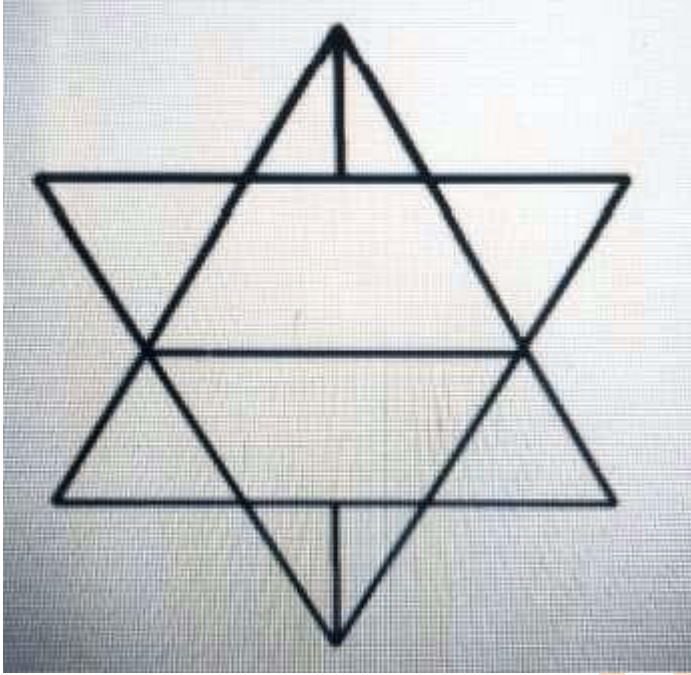



Counting of figures reasoning pdf

Q.1- दी गयी आकृति में त्रिकोणों की संख्या ज्ञात कीजिए (Count the number of triangles in the given figure) -



- a) 10
- b) 16
- c) 12
- d) 14

Q.2- दी गयी आकृति में त्रिकोणों की संख्या ज्ञात कीजिए (Count the number of triangles in the given figure) -

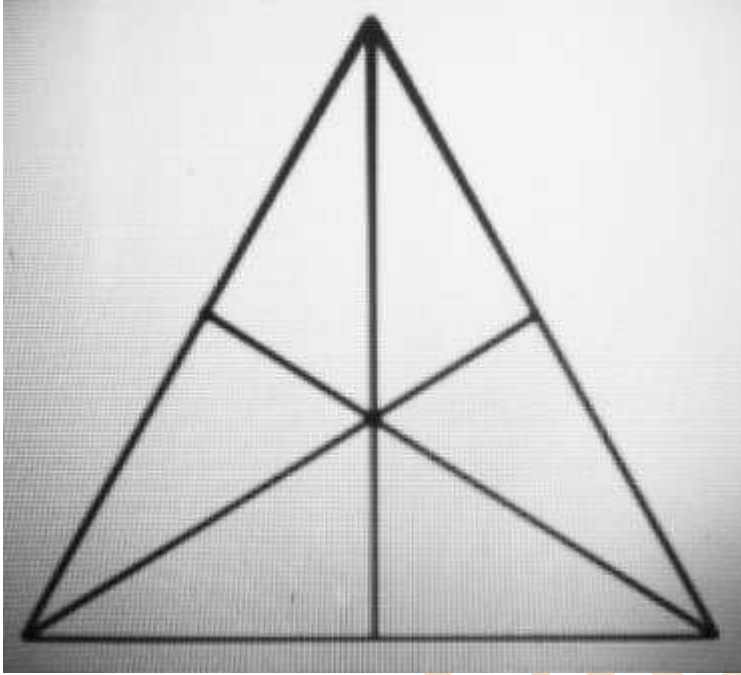


- a) 10

Counting of figures reasoning pdf

- b) 11
- c) 9
- d) 8

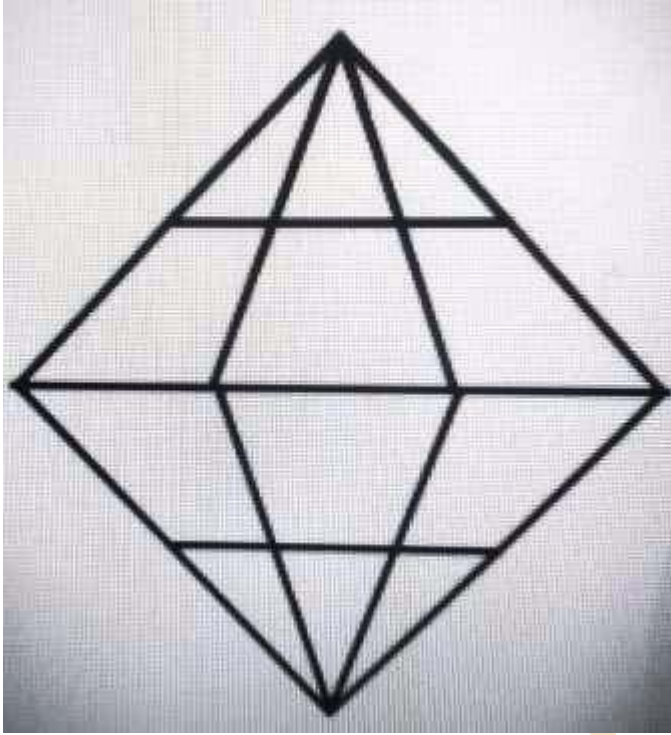
Q.3- दी गयी आकृति में त्रिकोणों की संख्या ज्ञात कीजिए (Count the number of triangles in the given figure) -



- a) 14
- b) 16
- c) 10
- d) 12

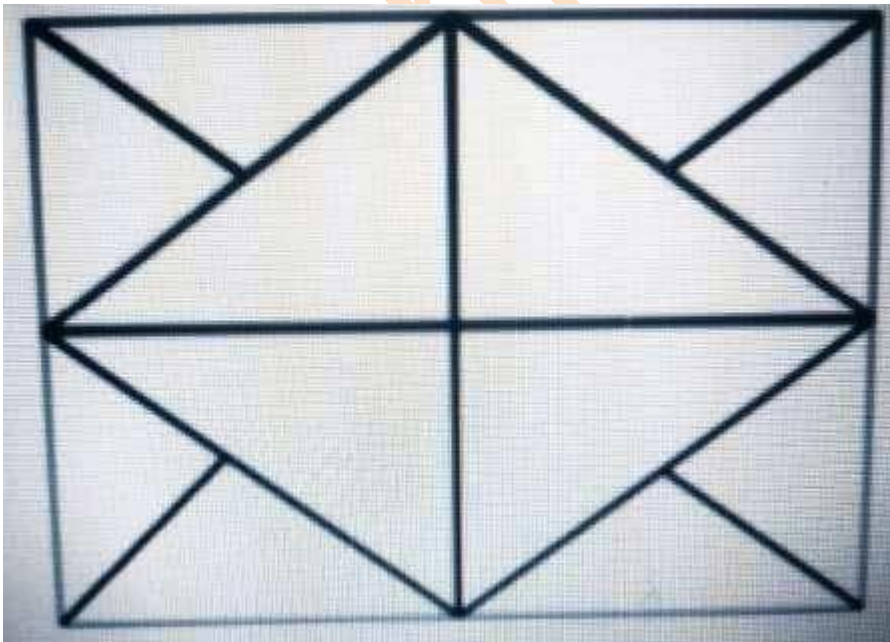
Q.4- दी गयी आकृति में त्रिकोणों की संख्या ज्ञात कीजिए (Count the number of triangles in the given figure)-

Counting of figures reasoning pdf



- a) 24
- b) 18
- c) 20
- d) 22

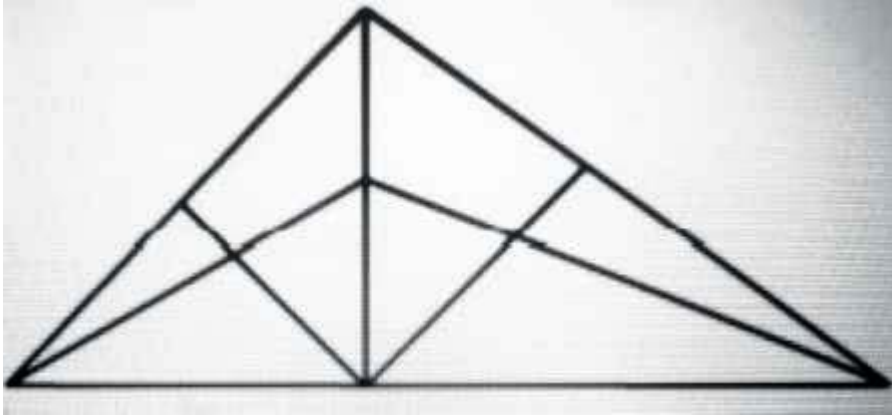
Q.5- दी गयी आकृति में त्रिकोणों की संख्या ज्ञात कीजिए (Count the number of triangles in the given figure)-



- a) 14
- b) 18
- c) 20
- d) 16

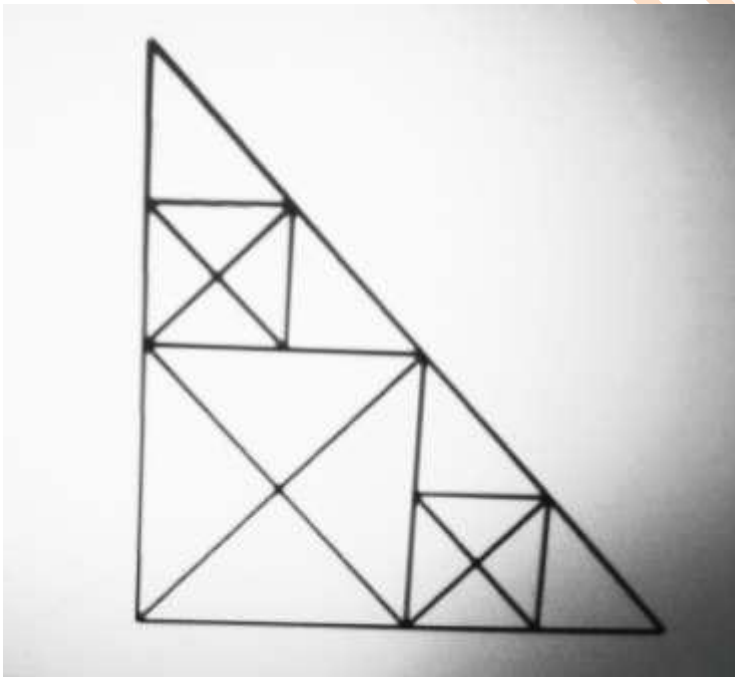
Counting of figures reasoning pdf

Q.6- दी गयी आकृति में त्रिकोणों की संख्या ज्ञात कीजिए (Count the number of triangles in the given figure) -



- a) 19
- b) 18
- c) 20
- d) 21

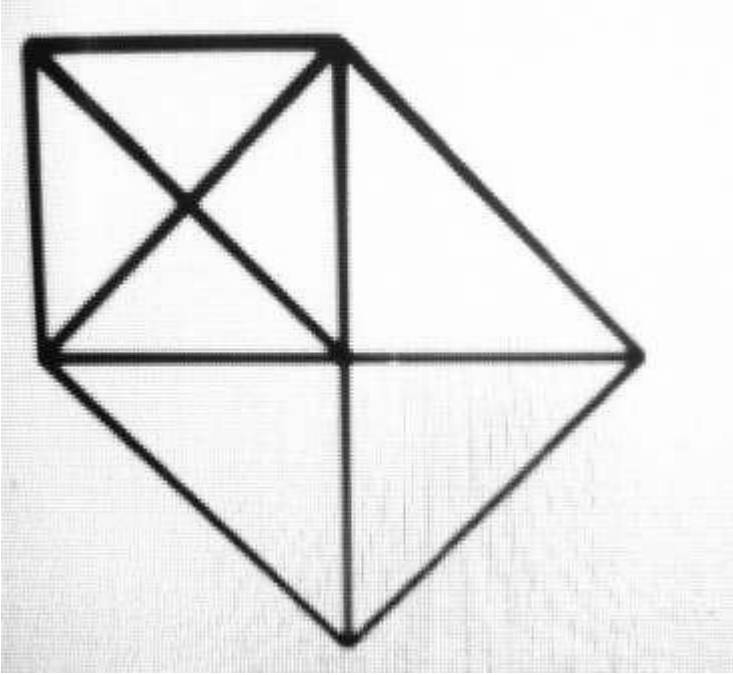
Q.7- दी गयी आकृति में त्रिकोणों की संख्या ज्ञात कीजिए (Count the number of triangles in the given figure) -



- a) 37
- b) 30
- c) 28
- d) 24


Q.8- दी गयी आकृति में त्रिकोणों की संख्या ज्ञात कीजिए (Count the number of triangles in the given figure) -

Counting of figures reasoning pdf



- a) 18
- b) 15
- c) 10
- d) 12

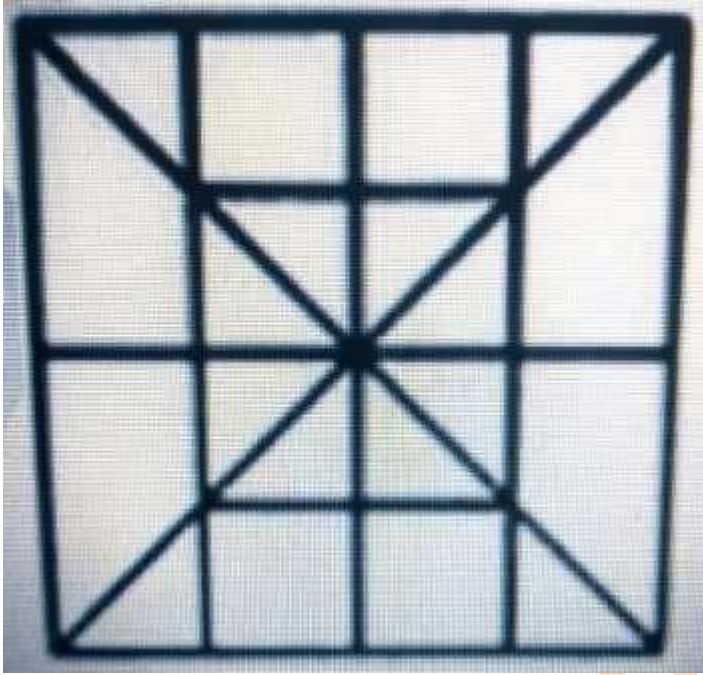
Q.9- दी गयी आकृति में वर्गों की संख्या ज्ञात कीजिए (Count the number of squares in the given figure) –



- a) 32
- b) 30
- c) 28
- d) 29


Counting of figures reasoning pdf

Q.10- दी गयी आकृति में वर्गों की संख्या ज्ञात कीजिए (Count the number of squares in the given figure) –



- a) 13
- b) 16
- c) 20
- d) 19

Q.11- दी गयी आकृति में आयतों की संख्या ज्ञात कीजिए (Count the number of rectangles in the given figure) –




- a) 27
- b) 38
- c) 36

Counting of figures reasoning pdf

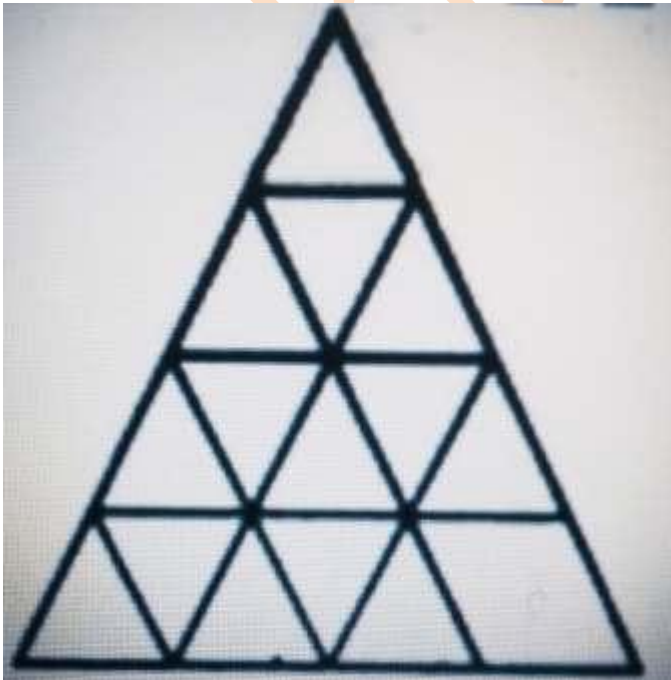
- d) 30

Q.12- दी गयी आकृति में आयतों की संख्या ज्ञात कीजिए (Count the number of rectangles in the given figure) –



- a) 17
- b) 18
- c) 19
- d) 20

Q.13- दी गयी आकृति में आवश्यक न्यूनतम सरल रेखाओं की संख्या ज्ञात कीजिए (Count the minimum number of straight lines required to make the given figure) –




- a) 16

Counting of figures reasoning pdf

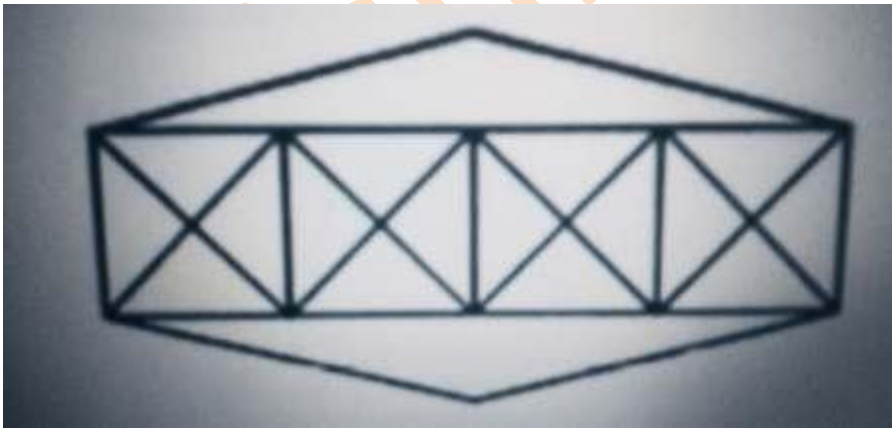
- b) 15
- c) 9
- d) 11

Q.14- दी गयी आकृति में आवश्यक न्यूनतम सरल रेखाओं की संख्या ज्ञात कीजिए (Count the minimum number of straight lines required to make the given figure) –



- a) 12 b) 15 c) 13 d) 14

Q.15- दी गयी आकृति में त्रिकोणों और वर्गों की संख्या ज्ञात कीजिए (Count the number of triangles and squares in the given figure) –



- a) 36 त्रिकोण, 7 वर्ग
- b) 38 त्रिकोण, 9 वर्ग
- c) 40 त्रिकोण, 7 वर्ग
- d) 42 त्रिकोण, 9 वर्ग

Answers key - 1. D 2. B 3. B 4. A 5. C 6. B 7. A 8. B 9. B 10. B 11. C 12. B 13. D 14. D 15. C